



امتحانات أبناؤنا في الخارج

ملف تقييم الأداء

باللغة العربية

المتخلفين عن  
الفصل الدراسي  
الأول  
2026

الصف الأول الإبتدائي

رقم الجلوس:

اسم الطالب:

سفارة جمهورية مصر العربية في دولة:



# غير مصرح بالكتابة فيها



# إرشادات عامة

- يتم تحميل ملف التقييم للطالب باللغة العربية للطلاب المتقدمين على ( النظام العربي ) من خلال المنصة الالكترونية لأبنائنا في الخارج بوزارة التربية والتعليم :

<http://saboard.emis.gov.eg>

- يتم طباعة الملف ويقوم الطالب بالإجابة عن الأنشطة الموجودة.
- يتم رفع الملف بعد الانتهاء من الإجابة عليه على المنصة الالكترونية لأبنائنا في الخارج.
- يتم تحميل الملف ورفعها بعد استكمالها بداية من وضعها على المنصة ولمدة أسبوعين.
- لا يتم ارسال أية ملفات تقييم ورقية ، ويتم التعامل من خلال المنصة الالكترونية فقط
- يتم تحميل الملف ورفعها من خارج جمهورية مصر العربية فقط.

## اللغة العربية

النشاط الأول : ارسم دائرة حول حرف (ج) فيما يلي :-

عمل - جناح - أمي - جدتي - جديد

النشاط الثاني : انطق واكتب الحرف الأول مع الضبط بالشكل :-



.....



.....



.....

النشاط الثالث :

رتب الحروف لتكون كلمة :

= ( م - ق - ر )

.....

= ( ت - ب - ك )

.....

= ( ك - ض - ح )

.....

= ( ز - ن - و )

.....

النشاط الرابع : لَوِّن الكلمات المفردة باللون الأحمر، والجمع باللون الأزرق:-

كتاب

جمل

أعمال

مزرعة

مناطق

مصنع

النشاط الخامس : اكمل الجمل التالية بفعل مضارع مناسب :-

1- ..... محمد إلى المدرسة. 2- ..... روان الدرس.

3- ..... هند من النادي بعد ساعة. 4- ..... يوسف إلى أسوان.

النشاط السادس : اكتب بخط جميل :-

أنا أعشق وطني مصر

.....

## 1- Look and match the word with the picture.

1- flower



2- butterfly



3- tomato



## 2-Look and circle the correct picture.

1- tree



2- bird



3- grass



## 3- Count and match

1- One



2- Two



3- Three



## نشاط ١

ضع كل كلمة من الكلمات الآتية في مكانها الخالي كما جاءت في سورة "المسد":

(وَمَا كَسَبَ - فِي جِيدِهَا - وَأَمْرَأَتُهُ - وَتَبَّ - نَارًا ذَاتَ )

قال الله ﷻ : ( تَبَّتْ يَدَا أَبِي لَهَبٍ ..... مَا أَغْنَىٰ عَنْهُ مَالُهُ ..... سَيَصِلَىٰ ..... لَهَبٍ ..... )

..... حَمَالَةَ الْحَطْبِ ..... حَبْلٌ مِّنْ مَّسَدٍ ..... )

## نشاط ٢

ضع علامة (√) أمام العبارة الصحيحة وعلامة (x) أمام العبارة غير الصحيحة فيما يأتي:

- ١- المسلم الأمين هو الذي يرد الأمانات إلى أصحابها . ( )
- ٢- نختم الصلاة بالتكبير ونفتتحها بالتسليم . ( )
- ٣- أم النبي ﷺ اسمها أمنة بنت وهب . ( )
- ٤- التأمل في الكون يضيع وقت المؤمن . ( )
- ٥- غسل الوجه في الوضوء يكون ثلاث مرات . ( )

## نشاط ٣

ضع خطًا تحت الإجابة الصحيحة مما بين القوسين فيما يلي:

- ١- خلقنا الله كي ..... ( نلهو ونلعب - نأكل وننام - نعبد ونعمل الخير )
- ٢- رحلة الشتاء لقريش كانت إلى ..... ( العراق - الشام - اليمن )
- ٣- نقول عند الركوع ..... ( سبحان ربي الأعلى - سبحان الله - سبحان ربي العظيم )
- ٤- الصراط المستقيم هو الطريق ..... ( الصعب - المجهول - الصحيح )
- ٥- من أركان الإسلام وتنطق باللسان ..... ( الصلاة - الشهادتان - الصوم )

النشاط الأول: قم بتلوين هذه الصورة واكتب عنواناً لها :-



النشاط الثاني : ضع الكلمات الصحيحة في المكان المناسب :-

( المولود - المجد - الحكمة )

1- "لأن لك الملك والقوة و.....، إلى الأبد. أمين"

2- "فلذلك أيضا القدوس ..... منك يدعى ابن الله "

3- "واما يسوع فكان يتقدم في ..... والقامة والنعمة. عند الله والناس"

النشاط الثالث: - ضع علامة ( √ ) أمام العبارة الصحيحة وعلامة ( x ) أمام العبارة غير الصحيحة :-

( )

1 - أطاع نوح الله وبنى الفلك.

( )

2- كذبت السامرية على الرب يسوع.

( )


3- جدد الملك حزقيا الهيكل.

النشاط الرابع: صل الشخصيات الآتية بما يناسبها من الصور المقابلة :-



أ

1- ظهر الملاك لمريم وهي تصلى



ب

2- فيلبس الرسول يعمد الوزير الحبشي



ج

3- سار النجم أمام المجوس حتى وصلوا إلى بيت لحم




د

4- أسرة سعيدة في جنة عدن

## نشاط ١:

أ) صل كل صورة بالعدد المناسب .



٣

٥

٦

ب) ضع دائرة حول العدد الأكبر


١٠

٧

٧

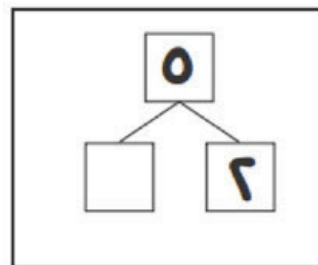
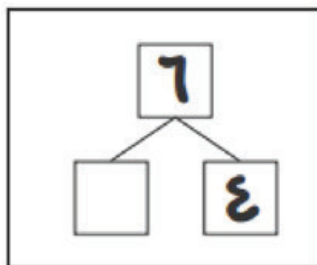
٦

ج) لديك ٣ تفاحات ، أعطيت صديقك ١ منها . كم تفاحة تبقت لديك ؟



## نشاط ٢:


أ) أكمل.



ب) يوجد ٤ زجاجات مياه ، ٢ زجاجة من العصير . كم عدد الزجاجات جميعًا ؟



(ج) ضع دائرة حول الأطول.



نشاط ٣:

(أ) أنظر إلى الصورة ، ثم أكمل .

هي  من الأعلى.

أعلى



أسفل

(ب) أكمل العدد الذي يجب وضعه في المربع .



(ج) أنظر إلى الشكل التالي، ثم أجب .

(١) أي الفواكه الأكثر عددًا ؟

(٢) أي الفواكه الأقل عددًا ؟

العنب	البرتقال	البطيخ	الفراولة

نشاط (1) :

الكبار والصغار



صل بين الكبار وصغارهم.



نشاط (2) :

أجزاء النبات



استخدم بنك الكلمات لكتابة أسماء أجزاء النبات. صل جزء النبات بوظيفته.

الساق

الجنور

الزهرة

الأوراق

تُثبِتُ النبات في الأرض.  
تمتص  
الماء من التربة.


يُحافظ على النبات في  
وضع قائم. ينقل الماء  
من الجنور إلى الأجزاء  
المختلفة من النبات.

تسمح بدخول الهواء.  
تستخدم ضوء الشمس في  
صنع الغذاء.

تتكون بها البذور.



النشاط الأول: صل بين صاحب كل مهنة والمكان الذي يعمل فيه



النشاط الثاني: أنواع الموارد المائية

حدد أي الصور تعبر عن المياه العذبة وأي الصور تعبر عن المياه المالحة



..... مياه



..... مياه

النشاط الثالث: أمامك مجموعة من صور أكتب ما تعبر عنه كل صورة



..... هذه الصورة تعبر عن ..... ويعد أكبرها .....



..... هذه الصورة تعبر عن ..... وبني علي الجهة ..... لنهر النيل

ملف تقييم الأداء

باللغة العربية

المتخلفين عن

الفصل الدراسي

2026

الأول

الصف الأول الابتدائي